

ZWEEDS LOOPSPEL

Sinterklaas

naam: _____

1	7	13	19
2	8	14	20
3	9	15	21
4	10	16	22
5	11	17	23
6	12	18	24






**Het inpakpapier is 4 m lang.
Pakjespiet knipt er 65 cm af.
Hoeveel blijft er over?**

2



**Piet moet een pakje bezorgen
bij het huisnummer
dat precies tussen 4 en 10 staat.
Bij welk nummer wordt het pakje bezorgd?**



**2 Kilo pepernoten kost 1 euro.
Hoeveel betaal je dan voor 8 kilo?**

4



Sinterklaas koopt bij de speelgoedwinkel kadootjes voor 680 euro. Hij betaalt met alleen briefjes van 100.

Hoeveel briefjes moet hij geven?

5



**Malle Piet ging fietsen en maakte
een reis van 20 kilometer.
Hoeveel meter is dat?**

6




**Bakpiet bakt 320 speculaasjes in 8
verschillende soorten. Hij bakt van iedere
soort evenveel koekjes.
Hoeveel koekjes bakt hij van iedere soort?**

7



Ozosnel wordt elke week 2 keer gekamd door Paardenpiet. Ze heeft het paard al 24 keer gekamd. Hoeveel weken gaat ze al naar Ozosnel?



Sinterklaas koopt kadootjes voor een school. Op de school zitten 390 meisjes en 275 jongens. Hoeveel kinderen zitten er op deze school?

9



**Sinterklaas krijgt bij de speelgoedwinkel
altijd 10% korting. Hij koopt er een
mountainbike van 350 euro.**

Wat moet Sinterklaas betalen?


10



**Bakpiet is aan het bakken en bakt in
4 rondes 49, 75, 82 en 97 pepernoten.**

Hoeveel pepernoten had ze bij elkaar?

11



Sinterklaas koopt een spelcomputer in de opruiming voor 154,95 euro in plaats van voor 175,00 euro.

Hoeveel korting heeft hij ongeveer?

Kies uit 10, 20, 30, 40 of 50 euro korting.

12



**De zak met cadeautjes weegt 7900 gram.
Hoeveel kilo is dat bijna?**

13



**360 Chocolateletters worden verdeeld over
6 zakken. 1 Zak is gevuld.**

Hoeveel chocoladeletters zijn dit?

14



Tijdens het schoentje zetten heeft de klas 7 liedjes gezongen. Elk liedje duurde ongeveer 1,5 minuut.

Hoeveel minuten hebben de leerlingen gezongen?

15



Per taart gebruikt Bakpiet 100 milliliter kwark. Hoeveel liter kwark heeft hij nodig voor 10 taarten?

16



Voor één paardenboek uit de serie betaal je 24 euro. Pakjespiet koopt 5 delen van de serie.

Hoeveel euro moet hij betalen?

17



**Sinterklaas heeft 4002 euro op de bank.
Hoofdpiet heeft 5 euro minder.
Hoeveel euro heeft hij?**

18



Louise, Lucas, Emma, Kenzo en Amira gaan samen naar de Grote Sinterklaasshow. Ze moeten samen 100 euro betalen.

Wat kost het per persoon?

19



Om 18:15 uur beginnen Sinterklaas en zijn pieten met het uitdelen van alle cadeautjes.

Om 23:45 uur zijn ze klaar.

Hoe lang hebben ze er over gedaan om alle cadeautjes uit te delen?

20



In het grote boek van Sinterklaas staan 1460 kindernamen beginnend met de letter A, 1370 kindernamen die beginnen met de letter B en 1130 namen die beginnen met de letter C.

Hoeveel kindernamen zijn dit in totaal?

21



Muziekpiet staat op het perron. De stoomtrein vertrekt om 3 uur. Op de klok staat nu 14:12 uur.

Hoeveel minuten moet ze nog wachten?

22



**In een XXL-zak pepernoten zit 2,5 kg.
Hoeveel gram is dit?**

23



Wat is zwaarder?

**1000 gram pepernoten
of
1 kg pietenveren**

24



Piet heeft 12 rollen.

$\frac{1}{4}$ Van de cadeautjes zijn knuffels.

Hoeveel knuffels zijn dat?

ZWEEDS LOOPSPEL

Sinterklaas

1 335 cm	7 12 weken	13 60 chocoladeletters	19 5 uur en 30 minuten
2 huisnummer 7	8 665 kinderen	14 10,5 minuut	20 3960 namen
3 4 euro	9 315 euro	15 1 liter	21 48 minuten
4 7 briefjes	10 303 pepernoten	16 120 euro	22 2500 gram
5 20.000 meter	11 20 euro	17 3997 euro	23 even zwaar
6 40 koekjes	12 8 kilo	18 20 euro	24 3 knuffels